

## EL APROVECHAMIENTO DE LOS RECURSOS NATURALES

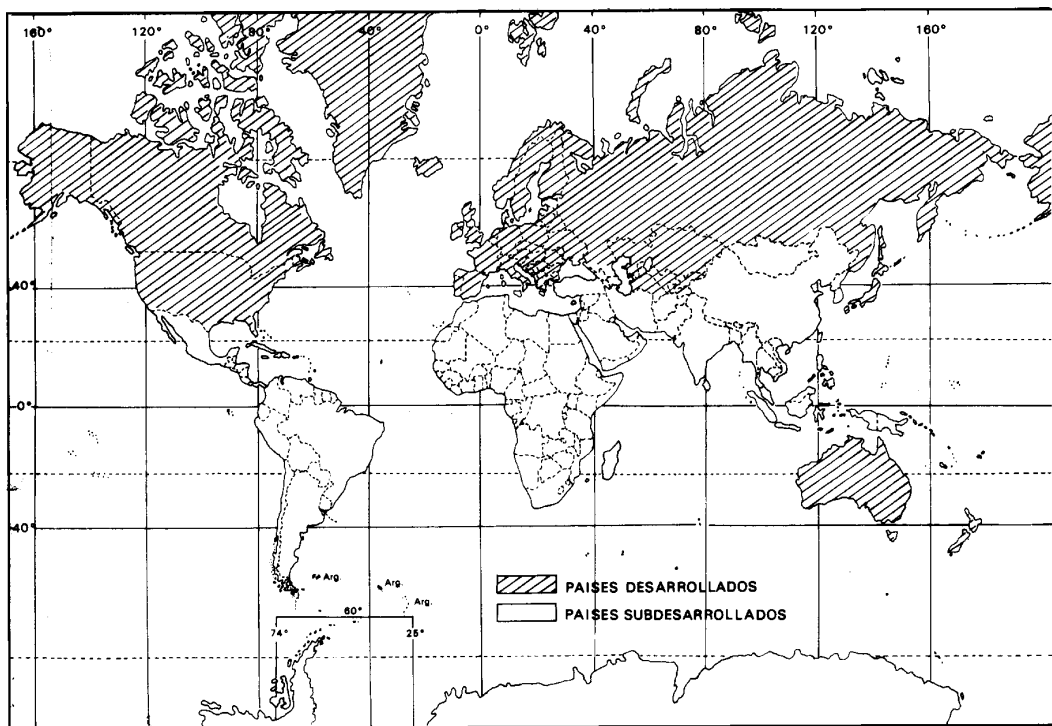
### Un mundo dividido: desarrollo y subdesarrollo

Si tomamos en cuenta el nivel de desarrollo de los distintos países podemos distinguir dos grandes grupos:

PAISES DESARROLLADOS

PAISES SUBDESARROLLADOS

Sus características determinan la organización del espacio y los paisajes geográficos de cada uno de ellos.



Observa el mapa y contesta:

¿Con qué clima coinciden las áreas desarrolladas?

.....

.....

¿Con qué climas coinciden las áreas subdesarrolladas?

.....

.....

En la lista siguiente subraya con rojo las zonas que correspondan al mundo desarrollado y con azul las del mundo subdesarrollado.

América del Norte  
 África  
 Europa  
 América Latina  
 India  
 Arabia

China  
 Próximo Oriente  
 Sudeste Asiático  
 Australia  
 Japón  
 C.E.I.

El alto nivel científico y tecnológico de los **países desarrollados** es responsable del perfeccionamiento alcanzado por las actividades humanas. Esto se manifiesta en la agricultura intensiva, en medios de transporte eficientes y modernos, en un gran desarrollo industrial y el consecuente predominio de población urbana.

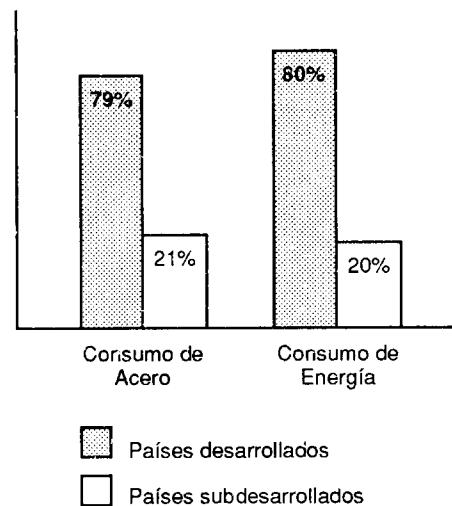
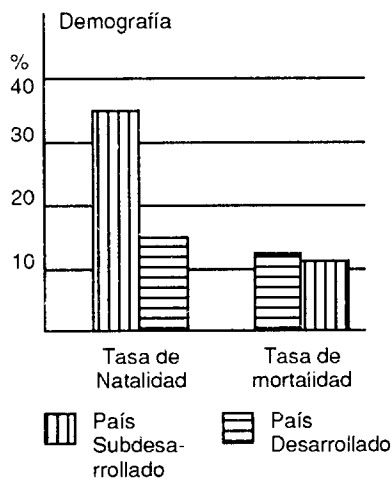
La población de estos países posee un elevado nivel de vida, que se refleja en las bajas tasas de natalidad y de mortalidad infantil, la alta esperanza de vida, el reducido número de analfabetos y las buenas condiciones de alimentación, vivienda y sanidad.

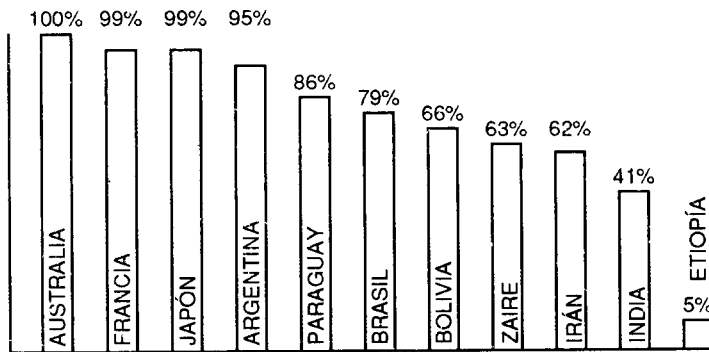
Los **países subdesarrollados**, en cambio, poseen una gran dependencia económica de los países desarrollados traducida en una considerable deuda externa y una fuerte influencia de empresas extranjeras (*multinacionales*).

En estos países predomina la producción de materias primas y un alto porcentaje de población dedicada a dicha actividad, debido a la falta de técnicas y medios modernos de producción.

El bajo nivel de vida de la población se manifiesta en su elevado crecimiento natural, baja esperanza de vida y deficientes condiciones de alimentación, vivienda, sanidad y educación.

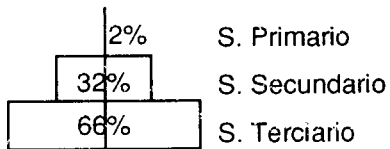
Analiza los siguientes indicadores socio-económicos y responde:



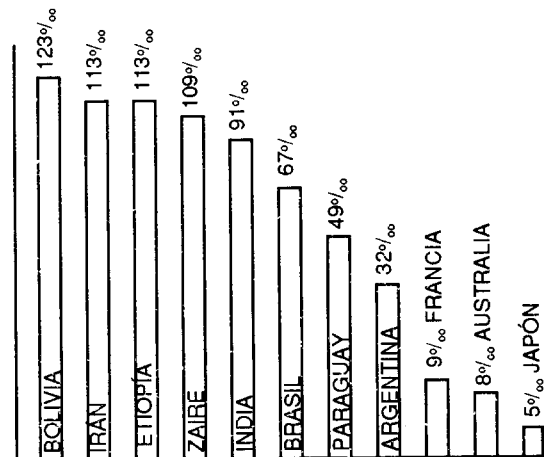
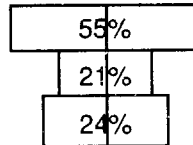


Alfabetismo

Distribución de población activa Estados Unidos



Guatemala



Tasas de Mortalidad Infantil

¿Por qué los países desarrollados tienen...

a) menor natalidad?

.....

.....

b) mayor alfabetización?

.....

.....

c) mayor desarrollo industrial?

.....

.....

**¿Por qué los países subdesarrollados tienen...**

a) mayor mortalidad infantil?

.....  
.....

b) predominio de población activa en el sector primario?

.....  
.....

c) menor consumo de electricidad?

.....  
.....