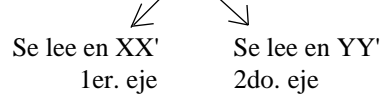


## NÚMEROS NEGATIVOS. NÚMEROS POSITIVOS

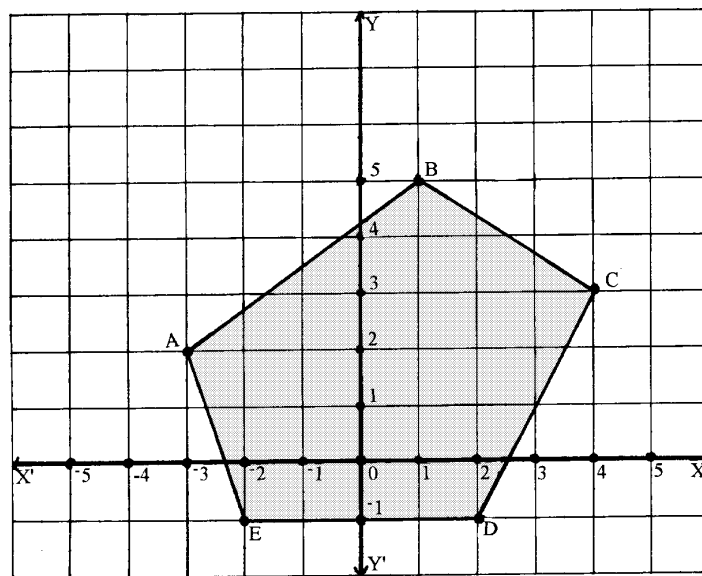
### Para pensar y recrear

1 - Un punto puede ser ubicado en el plano mediante un par de coordenadas.

Por ejemplo el punto A (-3, 2)

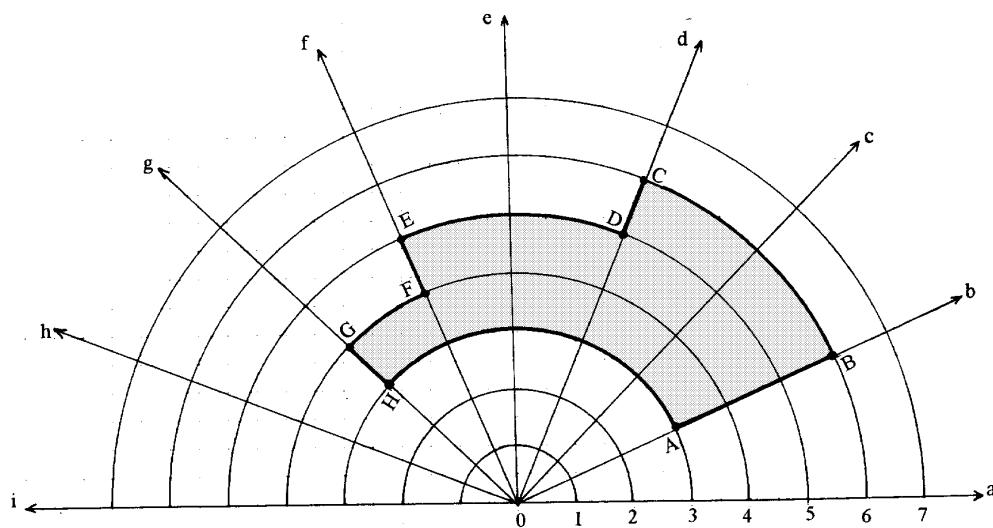

  
 Se lee en XX'      Se lee en YY'
   
 1er. eje          2do. eje

Escribe las coordenadas de los otros puntos B, C, D, E



2 - Hay otras formas de ubicar puntos en el plano.

Por ejemplo en el dibujo el punto A (b, 3)

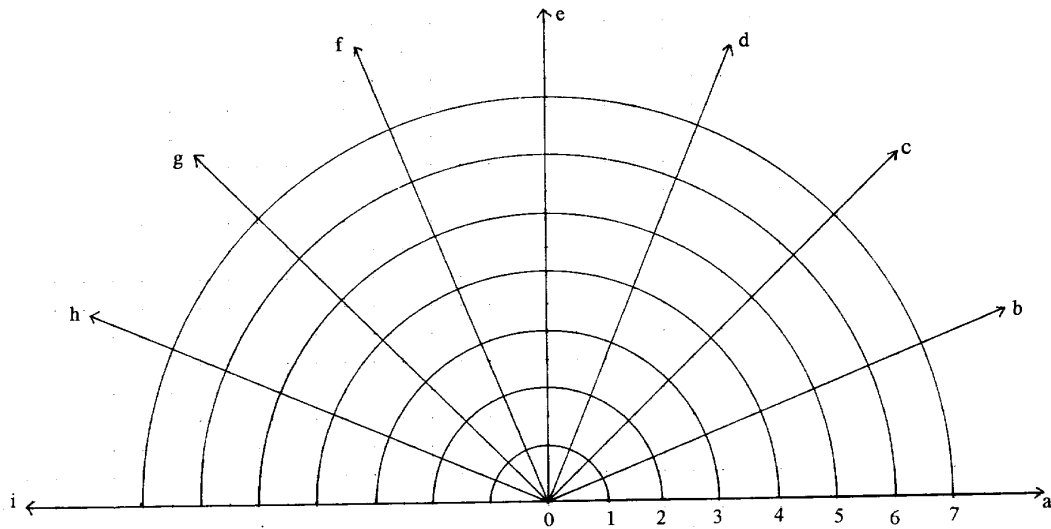


Escribe las coordenadas de los puntos B, C, D, E, F

.....

.....

3 - En el sistema de referencia del dibujo marca los puntos cuyas coordenadas se indican abajo y únelos consecutivamente, luego sombrea la figura obtenida.



- |           |           |           |           |
|-----------|-----------|-----------|-----------|
| A → (b,2) | E → (f,5) | I → (h,5) | M → (e,2) |
| B → (b,6) | F → (f,6) | J → (h,4) | N → (e,3) |
| C → (c,6) | G → (g,6) | K → (f,4) | P → (c,3) |
| D → (c,5) | H → (g,5) | L → (f,2) | Q → (c,2) |