

NUMERACIÓN

El reloj

Otra numeración

En tu televisor puedes apreciar escrituras como la siguiente: 17.20 ; en una boleta de compras confeccionada por computadora: 16.17.20



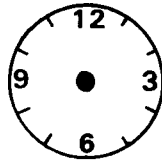
En algunos relojes se puede leer directamente la hora, por ejemplo: 05.20.30 que nos dice cinco horas, 20 minutos, 30 segundos.

En otro reloj aparece esa misma hora así:



Lee las siguientes horas y represéntalas en distintos relojes

h	m	s
18	00	30
03	30	00
10	15	20



h m
1 → 60

m s
1 → 60

¿Cuántos minutos hay en una hora? ¿cuántos segundos?

.....

.....

¿Cuántas horas hay en 130 minutos? ¿Cuántas horas hay en 360 minutos?

.....

.....

¿Cuántas horas hay en 3600 segundos?

.....

.....

En 2 horas, ¿cuántos minutos hay? ¿cuántos segundos?

.....

.....